

ŁAMPADKA

Dodatek dla najmłodszych parafian

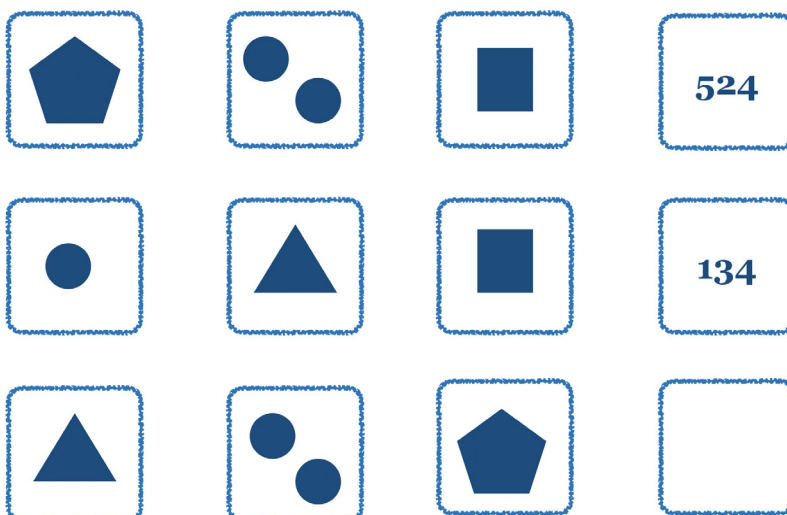


Witajcie w grudniu!


To już nasze ostatnie spotkanie w tym roku kalendarzowym. Wszyscy przygotowujemy się do święta Narodzenia Jezusa Chrystusa. Ale zanim nadejdą wyczekiwane przez nas wszystkich radosne święta będziemy wspominać pamięć dwóch ważnych świętych. To święty Mikołaj i święty Spirydon. Obydwaj żyli bardzo dawno temu, bo w IV wieku. Obydwaj byli biskupami i obydwaj słynęli z tego, że pomagali wielu ludziom. Nawet teraz, pomimo upływu lat prosimy ich o pomoc w różnych sprawach. Grudniowa „Lampadka” pomoże Wam lepiej ich poznać.

Do zobaczenia w cerkwi,
Redakcja.

- 1** Święty Mikołaj i Święty Spirydon nie tylko żyli w tych samych czasach, uczestniczyli także w tych samych wydarzeniach. Spotkali się podczas I Soboru Powszechnego w Nicei. Sobór to takie uroczyste zebranie biskupów na którym są rozwiązywane różne problemy dotyczące wiary. Jeśli chcesz wiedzieć w którym roku odbył się I Sobór Powszechny popatrz uważnie na rysunki poniżej. Spróbuj odgadnąć liczbę, którą trzeba wpisać w ostatni kwadrat – to właśnie data soboru.

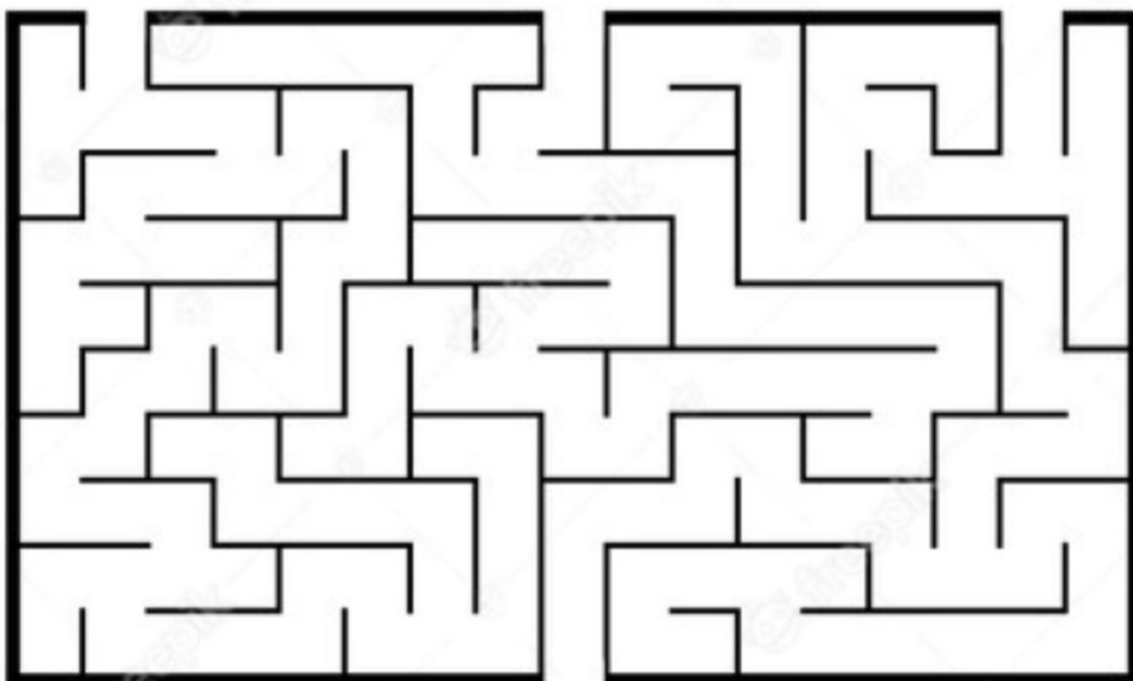


- 2** Święty Spirydon był biskupem w mieście Tremiunt. Ale jego relikwie znajdują się na jednej z greckich wysp. Czy wiesz jak się nazywa ta wyspa? Rozwiąż krzyżówkę, a pierwsze litery wpisanych słów ułożą się w nazwę wyspy..



1.							
2.							
3.							
4.							
5.							

3 W naszej parafialnej cerkwi mamy przedmiot związany ze św. Spirydonem. Spróbuj w poniższym labiryncie znaleźć ten przedmiot. Dowiesz się czy jest to księga liturgiczna, mitra (nakrycie głowy biskupa) czy bucik świętego.



- 4 Czy wiesz jak nazywało się miasto w którym święty Mikołaj był biskupem? Nie? Po rozwiązaniu tego ćwiczenia będziesz już wiedział! Rozwiąż równania. Te litery przy których wynik będzie równy 14 przepiszesz po kolei w wyznaczonym miejscu. Zwróć uwagę, że nazwa miasta składa się z dwóch wyrazów.

M $10+2+2$	Z $4+6$	I $20-6$	R 2×7	P 2×9	A $16-2$	M $4+8+9$
A $30-12$	L $2+8+4$	U $6 \times 2+8$	I $9+5$	C $2 \times 5+4$	S $40-12$	D $28:4$
B 1×16	E $2 \times 4+6$	Y $3+25$	J $18-4$	Ż $3 \times 8+4$	F $14+18$	S $20:2+4$
K 3×4	M $39-11$	S 3×3	Ś 0×15	K $24-10$	A $2 \times 2+10$	G $12:4+1$

--	--	--	--	--	--	--	--	--	--	--	--	--	--	--	--	--	--	--

- 5 Zarówno święty Mikołaj, jak i święty Spiridon byli za życia biskupami. Korzystając z kodu QR obejrzyj krótki film opowiadający o szatach prawosławnych biskupów, następnie nazwy poszczególnych elementów znajdź w wykreślance.

Wyrazy do znalezienia: riasa, panagija, kłobuk, posoch, czotki, mantija, żeżł, podsakosnik, sakkos, omoforion, poruczy, jepitrachil, palica, mitra, orlec, kukol.



M	A	N	T	I	J	A	L	Y	S
A	N	O	I	R	O	F	O	M	O
N	C	H	K	C	Z	O	T	K	I
C	V	I	C	Ł	L	O	K	U	K
D	L	Q	L	O	O	R	L	E	C
S	O	K	K	A	S	B	X	K	Ł
M	I	T	R	A	P	O	U	S	Z
A	J	I	G	A	N	A	P	K	E
P	O	R	U	C	Z	Y	G	E	Ż
V	L	J	J	A	S	A	I	R	G

- 6 Święty Mikołaj postanowił pewnego razu wyruszyć w pielgrzymkę do Ziemi Świętej, aby odwiedzić miejsca w których przebywał sam Jezus Chrystus. Aby tam się dostać musiał użyć statku. Podczas rejsu rozpułała się straszna burza, wszyscy pasażerowie prosili aby święty pomodlił się za nich, tak aby mogli bezpiecznie dopłynąć do brzegu. Kiedy święty Mikołaj pomodlił się burza ucichła i wszyscy dotarli do celu. Pokoloruj ilustrację poniżej, która przedstawia ucieszenie burzy przez świętego Mikołaja.

